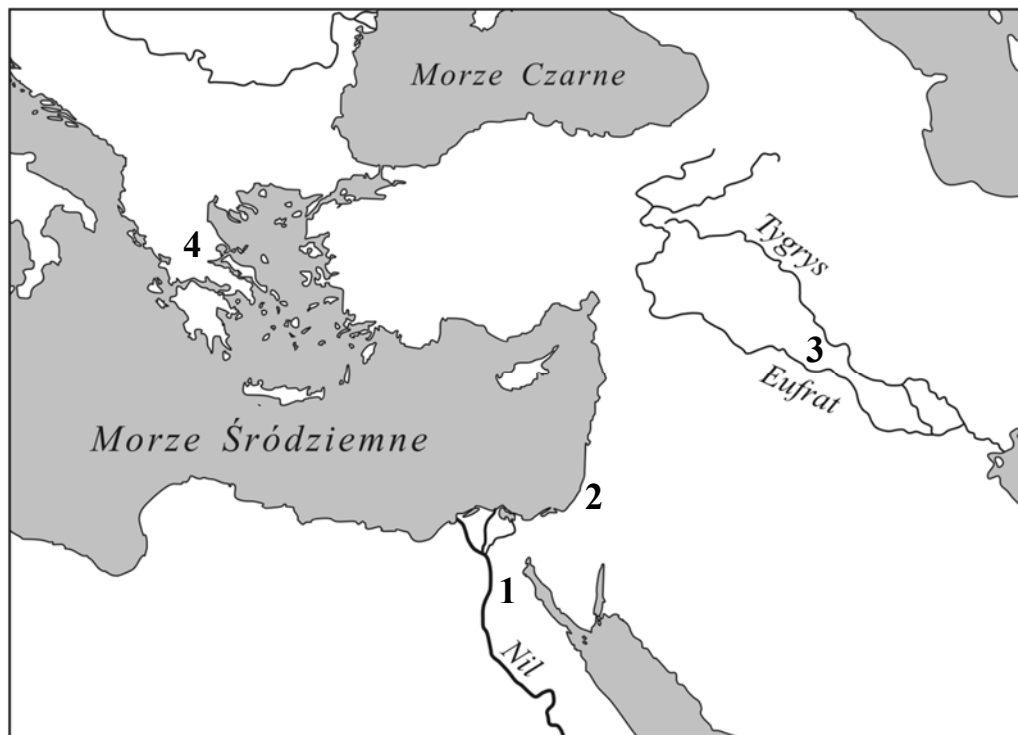


### Tekst i mapa do zadania 1.

Jam jest król potężny, słońce Babilonu, który pozwala wzejść światłości nad krajem Sumeru i Akadu, król, który zmusił do posłuszeństwa cztery strony świata, ulubieniec Isztar – oto ja! Gdy Marduk polecił mi ład zaprowadzić (wśród) ludu i krajowi dobre obyczaje dać, włożyłem prawo i sprawiedliwość w usta kraju (oraz) dobrobyt ludowi zapewniłem.



### Zadanie 1. (0–1)

Dokończ zdanie. Wybierz właściwą odpowiedź spośród podanych.



Przytoczony fragment tekstu związany jest z cywilizacją, która rozwinęła się na obszarze oznaczonym na mapie numerem

- A. 1.
- B. 2.
- C. 3.
- D. 4.

**PRZENIEŚ ROZWIĄZANIA NA KARTĘ ODPOWIEDZI!**

## Tekst i ilustracje do zadania 2.

Smakując w wieńcach zwycięskich  
Błyszczała jasno ich sprawność  
I w stadionowych biegach bez rynsztunku,  
I w biegach hoplitów ze szczękającymi tarczami,  
I w ręcznych rzutach oszczepem,  
I wśród miotaczy kamiennych dysków.  
Najwyższą jest nagrodą pieśń pochwalna,  
Kwiat słowa u swoich i obcych.




### Zadanie 2. (0–1)

Która ilustracja nie przedstawia sytuacji opisanej w tekście? Wybierz właściwą odpowiedź spośród podanych.

- A. 1.
- B. 2.
- C. 3.
- D. 4.

**PRZENIEŚ ROZWIĄZANIA NA KARTĘ ODPOWIEDZI!**

### Ilustracje do zadania 3.



### Zadanie 3. (0–2)

Spośród budowli przedstawionych na ilustracjach oznaczonych literami A–D wybierz tę, która została wzniesiona najwcześniej, oraz tę, którą wzniesiono najpóźniej. W każdym wierszu tabeli wybierz właściwą literę.

3.1.	budowla wzniesiona chronologicznie najwcześniej	A	B	C	D
3.2.	budowla wzniesiona chronologicznie najpóźniej	A	B	C	D

### Zadanie 4. (0–1)

Dokończ zdanie. Wybierz właściwą odpowiedź spośród podanych.

Szereg, w którym uporządkowano religie zgodnie z chronologią ich powstania, to:

- A. judaizm, chrześcijaństwo, islam.
- B. islam, judaizm, chrześcijaństwo.
- C. chrześcijaństwo, islam, judaizm.
- D. judaizm, islam, chrześcijaństwo.

**PRZENIEŚ ROZWIĄZANIA NA KARTĘ ODPOWIEDZI!**

**Tekst do zadań 5. i 6.**

Jako że wszystkim wiadomo, iż nie mam środków, by się wykarmić i przyodziać, zwracam się z prośbą, aby pan, udzielając mi w swej łaskawości pozwolenia na oddanie się i powierzenie jego opiece i życzliwości, mi to zapewnił. Niniejszym to czynię pod warunkiem, że musisz, panie, pomagać mi i zapewnić pożywienie i przyodziewek, stosownie do tego, że jestem w stanie służyć ci i położyć dla ciebie zasługi; i że póki żyję, muszę ci służyć i okazywać posłuszeństwo takiego rodzaju, jakiego oczekuje się od wolnego człowieka; i przez całe życie nie będę władny wycofać się spod twojej władzy i opieki, lecz muszę przez wszystkie dni mego życia pozostawać pod twoją władzą i opieką.

**Zadanie 5. (0–1)**

**Dokończ zdanie. Wybierz odpowiedź A albo B i jej uzasadnienie 1., 2., albo 3.**

Cytowany tekst jest zobowiązaniem

<b>A.</b>	wasala,	ponieważ zawiera obietnicę	<b>1.</b>	wiernej służby.
			<b>2.</b>	zapewnienia utrzymania.
<b>B.</b>	seniora,		<b>3.</b>	oddania się w niewolę.

**Zadanie 6. (0–1)**

**Dokończ zdanie. Wybierz właściwą odpowiedź spośród podanych.**

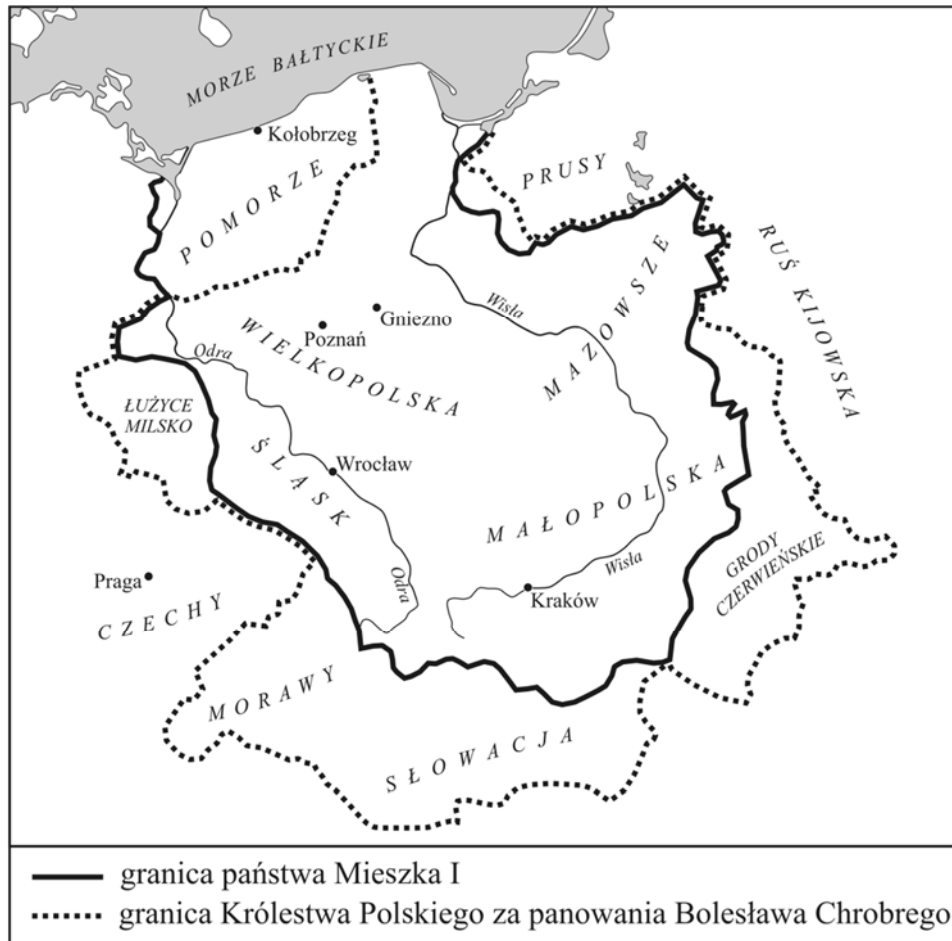
Opisany w tekście model stosunków społecznych był powszechny w Europie Zachodniej

- A. w starożytności.
- B. w średniowieczu.
- C. w czasach renesansu.
- D. w czasach oświecenia.

***PRZENIEŚ ROZWIĄZANIA NA KARTĘ ODPOWIEDZI!***

## Mapa do zadania 7.

Zasięg terytorialny Polski za panowania Mieszka I i Bolesława Chrobrego



### Zadanie 7. (0–3)

Uzupełnij poniższy tekst. Przyporządkuj do każdego zdania właściwe uzupełnienie spośród oznaczonych literami A–C.

Mapa przedstawia zmiany terytorialne państwa polskiego 7.1. \_\_\_\_\_. W Polsce panowała wtedy dynastia 7.2. \_\_\_\_\_. Bolesław Chrobry powiększył terytorium swojego państwa o 7.3. \_\_\_\_\_.

- 7.1. A. pod koniec IX i na początku X wieku  
B. pod koniec X i na początku XI wieku  
C. pod koniec XI i na początku XII wieku

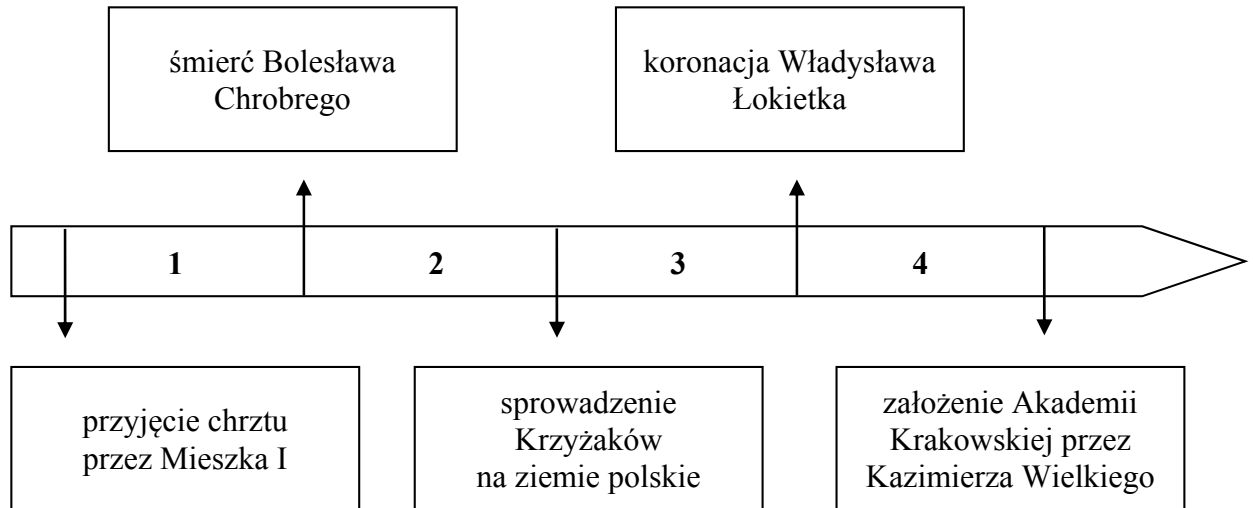
- 7.2. A. Piastów  
B. Jagiellonów  
C. Andegawenów

- 7.3. A. Śląsk  
B. Wielkopolskę  
C. Grody Czerwieńskie

**PRZENIEŚ ROZWIĄZANIA NA KARTĘ ODPOWIEDZI!**

### Tekst i taśma chronologiczna do zadania 8.

I żeby nie wybuchły przypadkiem między synami wojny o tron, nienawiści i spory, dzieli między synów państwo polskie. Pierworodnemu Władysławowi zapisuje ziemię krakowską, sieradzką, łęczycką, Śląsk i Pomorze. Poleca, by w jego rękę została władza zwierzchnia, tron książęcy i dawny autorytet, a pozostałym braciom rozkazuje, aby mu byli we wszystkim posłuszni.



### Zadanie 8. (0–1)

Dokończ zdanie. Wybierz właściwą odpowiedź spośród podanych.

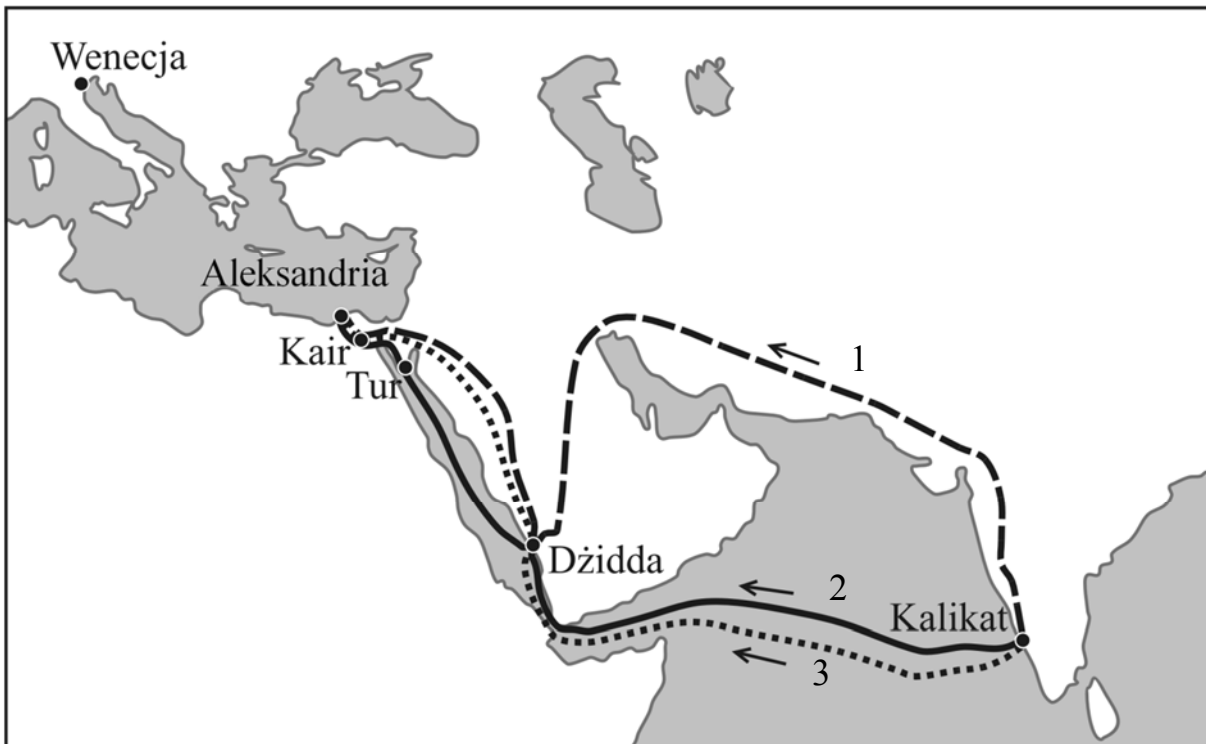
Opisana w tekście decyzja władcy została podjęta w okresie oznaczonym na taśmie chronologicznej numerem

- A. 1.
- B. 2.
- C. 3.
- D. 4.

**PRZENIEŚ ROZWIĄZANIA NA KARTĘ ODPOWIEDZI!**

### Tekst i mapa do zadania 9.

Z okolicy Kalikatu, która zwie się Górne Indie, pochodzą przyprawy korzenne, używane we wszystkich krajach świata. W Kalikacie korzenie ładowane są na statki i przewożone do leżącego w Arabii portu Dżidda, gdzie kupcy płacą wielkiemu sułtanowi myto. W tym samym porcie korzenie ładuje się na mniejsze statki, płyną one do miejsca Tur. Tutaj kupcy wynajmują wielbłądy i w drodze do Kairu są często napadani przez rabusiów. Z Kairu korzenie przewożone są do Aleksandrii. Stąd zabierane są przez galery weneckie i genueńskie.

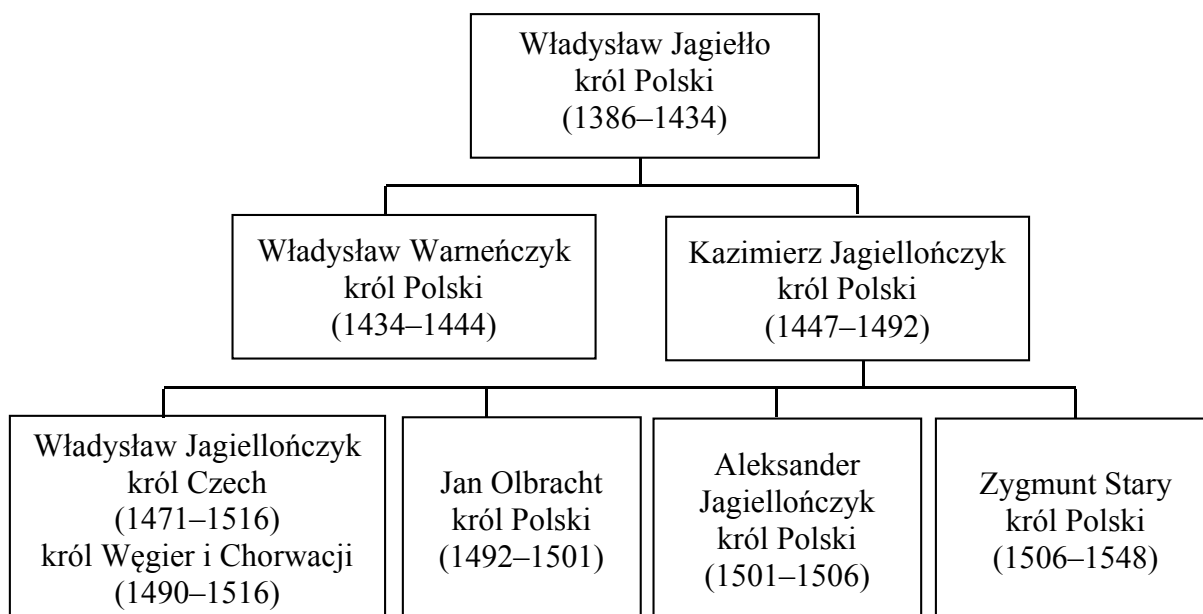


### Zadanie 9. (0–1)

Oceń, czy poniższe zdania dotyczące tekstu i mapy są prawdziwe. Wybierz P, jeśli zdanie jest prawdziwe, albo F – jeśli zdanie jest fałszywe.

Pośrednikami w handlu przyprawami pomiędzy Azją i Europą byli m.in. kupcy włoscy.	P	F
Trasa transportu korzeni opisana w tekście jest oznaczona na mapie numerem 1.	P	F

**PRZENIEŚ ROZWIĄZANIA NA KARTĘ ODPOWIEDZI!**

**Tablica genealogiczna i tekst do zadania 10.**

Zapis, np. 1471–1516, oznacza lata panowania.

Mikołaj Kopernik urodził się w 1473 roku w Toruniu, zmarł w 1543 roku we Fromborku. Od 1496 roku studiował astronomię w Bolonii. W końcu 1503 roku powrócił do Polski. Był sekretarzem i lekarzem przybocznym wuja, biskupa warmińskiego Łukasza Watzenrode. W 1510 roku jako kanonik osiedlił się we Fromborku. Podczas wojny polsko-krzyżackiej w latach 1520–1521 bronił Olsztyna przed Krzyżakami. W 1543 roku ukazało się jego najważniejsze dzieło *O obrotach sfer niebieskich*.

**Zadanie 10. (0–1)**

Oceń, które z poniższych zdań dotyczących tablicy genealogicznej i tekstu jest **falszywe**. Zaznacz F przy zdaniu fałszywym.

1.	Za życia Kopernika w Polsce panowało kolejno czterech królów.	F
2.	Gdy w Polsce panował Aleksander Jagiellończyk, Mikołaj Kopernik rozpoczął studia uniwersyteckie we Włoszech.	F
3.	Za rządów Zygmunta Starego ukazało się dzieło Mikołaja Kopernika <i>O obrotach sfer niebieskich</i> .	F

**PRZENIEŚ ROZWIĄZANIA NA KARTĘ ODPOWIEDZI!**



### Tekst do zadania 11.

Henryk, z bożej łaski król Polski, wielki książę litewski.

Wiadomo czynimy niniejszym pismem.

Iż za żywota naszego my i potomkowie nasi, królowie polscy, nie mamy mianować ani obierać króla, aby po zejściu naszym wolne obieranie zostało.

A jeślibyśmy (czego Boże uchowaj) co przeciw prawom, wolnościom, artykułom, kondycjom wykroczyli albo czego nie wypełnili, tedy obywateli od posłuszeństwa i wiary nam powinnej wolnym czyniemy.

### Zadanie 11. (0–1)

Oceń, czy poniższe zdania dotyczące tekstu są prawdziwe. Wybierz P, jeśli zdanie jest prawdziwe, albo F – jeśli zdanie jest fałszywe.

Dokument, z którego pochodzi tekst, wprowadzał w Rzeczypospolitej monarchię dziedziczną.	P	F
W przypadku złamania przez króla praw obowiązujących w Rzeczypospolitej szlachta miała prawo nie podporządkowywać się jego decyzjom.	P	F

### Teksty do zadania 12.

- A. Monarcha i sprawiedliwość ustanowieni są przez Boga i stanowią niejako części niezależności boskiej. Bóg jeno może sądzić ich wyroki i czyny. Państwu wychodzi na korzyść, jeśli cała władza skupia się w jednym ręku.
- B. Cała władza ustawodawcza przyznana będzie kongresowi. Władza wykonawcza przyznana będzie prezydentowi. Ma on piastować ten urząd przez lat 4, razem z wiceprezydentem.
- C. Przeto rzeczeni lordowie oraz Izba Gmin oświadczają: że rzekoma władza zawieszania praw lub ich wykonywania na podstawie powagi królewskiej, a bez zgody parlamentu, jest bezprawiem.
- D. Ta jednak izba poselska doszła do takiej władzy, że gdy dawniej miała tylko głos doradczy, dziś wszystko stanowi. [Senat] złożony z osób dojrzałych, bliższy osoby królewskiej, postępuje ostrożniej i z większą oględnością w wyjawianiu swych myśli.

### Zadanie 12. (0–2)

Wskazanim poniżej formom ustrojowym przyporządkuj właściwy opis – wybierz go spośród oznaczonych literami A–D. W każdym wierszu tabeli wybierz właściwą literę.

12.1.	monarchia parlamentarna w Anglii	A	B	C	D
12.2.	monarchia absolutna we Francji	A	B	C	D

**PRZENIEŚ ROZWIĄZANIA NA KARTĘ ODPOWIEDZI!**

**Ilustracja do zadania 13.**



**Zadanie 13. (0–1)**

**Czy przedstawiona budowla reprezentuje styl klasycystyczny? Wybierz odpowiedź A albo B i jej uzasadnienie 1., 2., albo 3.**

<b>A.</b>	Tak,	gdyż nawiązuje do	<b>1.</b>	budowli w stylu romańskim.
			<b>2.</b>	wzorców architektury antycznej.
<b>B.</b>	Nie,		<b>3.</b>	średniowiecznej sztuki gotyckiej.

***PRZENIEŚ ROZWIĄZANIA NA KARTĘ ODPOWIEDZI!***

Mapa i tabela do zadań 14. i 15.

Rozbiory Polski



Obszary zagarnięte przez zaborców w poszczególnych rozbiorach Polski (w tys. km<sup>2</sup>)

	Rosja	Austria	Prusy
I rozbiór	92	83	36
II rozbiór	250	–	58
III rozbiór	120	47	48


**Zadanie 14. (0–1)**

Oceń, czy informacje zawarte na mapie i w tabeli pozwalają potwierdzić prawdziwość poniższych zdań. Wybierz T, jeśli można potwierdzić ich prawdziwość, albo N – jeśli nie można potwierdzić ich prawdziwości.

Największa część ziem Rzeczypospolitej znalazła się pod zaborem rosyjskim.	<b>T</b>	<b>N</b>
Ziemie najlepiej rozwinięte gospodarczo znalazły się pod wpływami Prus.	<b>T</b>	<b>N</b>

**Zadanie 15. (0–1)**

Dokończ zdanie. Wybierz właściwą odpowiedź spośród podanych.

Obszar zaboru, którego granice oznaczono na mapie linią , miał powierzchnię

- A. 92 tys. km<sup>2</sup>.
- B. 83 tys. km<sup>2</sup>.
- C. 58 tys. km<sup>2</sup>.
- D. 47 tys. km<sup>2</sup>.

**PRZENIEŚ ROZWIĄZANIA NA KARTĘ ODPOWIEDZI!**

### Teksty do zadania 16.

Fragment *Deklaracji Praw Człowieka i Obywatela*

Artykuł 17. Własność jest prawem świętym i nietykalnym. Nikt nie może być go pozbawionym, z wyjątkiem wypadku, gdy tego wymaga w sposób oczywisty konieczność publiczna uznana przez prawo, wszelako pod warunkiem słusznego i z góry wypłaconego odszkodowania.

Fragment *Kodeksu Napoleona*

544. Własność jest to nieograniczone prawo używania i rozporządzania rzeczami.

545. Nikt nie może być przymuszony do odstąpienia swej własności z wyjątkiem wypadków wywołanych koniecznością społeczną, lecz po uiszczeniu sprawiedliwego wynagrodzenia z góry.

### Zadanie 16. (0–1)

Oceń, czy poniższe zdania dotyczące tekstów są prawdziwe. Wybierz P, jeśli zdanie jest prawdziwe, albo F – jeśli zdanie jest fałszywe.

Dokumenty prezentują sprzeczne koncepcje dotyczące prawa własności.	<b>P</b>	<b>F</b>
Twórcom <i>Deklaracji Praw Człowieka i Obywatela</i> przyświecała idea ochrony własności prywatnej.	<b>P</b>	<b>F</b>

**PRZENIEŚ ROZWIĄZANIA NA KARTĘ ODPOWIEDZI!**

**Mapa do zadania 17.**



**Zadanie 17. (0–1)**

**Dokończ zdanie. Wybierz właściwą odpowiedź spośród podanych.**

Granice Królestwa Polskiego widoczne na mapie zostały ustalone

- A. na mocy pokoju w Tylży.
- B. w wyniku I rozbioru Polski.
- C. podczas kongresu wiedeńskiego.
- D. po upadku powstania listopadowego.

**PRZENIEŚ ROZWIĄZANIA NA KARTĘ ODPOWIEDZI!**

### **Tekst do zadania 18.**

Komitet Centralny Narodowy jako Tymczasowy Rząd Narodowy postanowił i stanowi: Art. I. Wszelka posiadłość ziemska, jaką każdy gospodarz dotąd tytułem pańszczyzny, czynszu lub innym tytułem posiadał, wraz z należnymi do niej ogrodami, zabudowaniami mieszkalnymi i gospodarskimi, tudzież prawami i przywilejami do niej przywiązanymi – od tego niniejszego dekretu, staje się wyłączną i dziedziczną dotychczasowego posiadacza własnością, bez żadnych jakichkolwiek bądź obowiązków, danin, pańszczyzny lub czynszu, z warunkiem jedynie opłacania przypadających z niej podatków i odbywania należnej służby krajowej.

### **Zadanie 18. (0–3)**

**Uzupełnij poniższy tekst. Przyporządkuj do każdego zdania właściwe uzupełnienie spośród oznaczonych literami A–C.**

Dokument, z którego pochodzi powyższy fragment, wydany został przez władze powstańcze w czasie trwania **18.1.** \_\_\_\_\_. Dokument stanowił o **18.2.** \_\_\_\_\_. Celem wydania tego aktu było **18.3.** \_\_\_\_\_.

**18.1. A.** powstania kościuszkowskiego

**B.** powstania listopadowego

**C.** powstania styczniowego

**18.2. A.** uwłaszczeniu chłopów

**B.** powołaniu chłopów do wojska

**C.** podwyższeniu opłacanego czynszu

**18.3. A.** zwalczanie bogatych właścicieli ziemskich

**B.** stworzenie nowoczesnych gospodarstw rolnych

**C.** zachęcenie chłopów do wzięcia udziału w powstaniu

***PRZENIEŚ ROZWIĄZANIA NA KARTĘ ODPOWIEDZI!***

### **Tekst do zadania 19.**

My ludzie stanu Karolina Południowa zebrani na konwencji deklarujemy i zarządzamy, że przyjęty przez nas akt z 23 maja roku Pańskiego 1788, ażeby konstytucja Stanów Zjednoczonych Ameryki była ratyfikowana, a także akty i części aktów zgromadzenia ogólnego tego stanu ratyfikujące poprawki do rzeczonyj konstytucji, są teraz odwołane, a Unię obecnie istniejącą między Karoliną Południową i innymi stanami pod nazwą Stany Zjednoczone Ameryki uważamy za zerwaną.

### **Zadanie 19. (0–1)**

**Dokończ zdanie. Wybierz właściwą odpowiedź spośród podanych.**

W wyniku ogłoszenia dokumentu, którego fragment zacytowano powyżej,

- A. podpisano Deklarację Niepodległości Stanów Zjednoczonych.
- B. wybuchła wojna secesyjna w Stanach Zjednoczonych.
- C. Stany Zjednoczone przystąpiły do I wojny światowej.
- D. uchwalono konstytucję Stanów Zjednoczonych.

### **Tekst do zadania 20.**

Żołnierze! Wśród powszechnej bierności naszego społeczeństwa wypadki dziejowe zaskoczyły Polaków, zostawiając ich bez określonych decyzji, bez możliwości jednolitego i silnego postępowania. Koniecznym było, by najśmielsi i najenergiczniejsi wzięli na swoje barki odpowiedzialność, inicjatywę rzucenia iskry na proch. Tę iskrę rzuciliście, dając przykład innym, jako przodownicy walki narodu polskiego o niepodległość ojczyzny. Obecnie naród burzyć się zaczyna i nie chce nas zostawić samotnymi, tak jak byliśmy dotychczas. W Krakowie zawiązał się Naczelny Komitet Narodowy<sup>1</sup> ze wszystkich stronnictw polskich, który ma wystawić Legiony Polskie do walki z Rosją.

<sup>1</sup> Naczelny Komitet Narodowy – organizacja polityczna utworzona w sierpniu 1914 roku przez polityków galicyjskich w Krakowie.

### **Zadanie 20. (0–1)**

**Dokończ zdanie. Wybierz właściwą odpowiedź spośród podanych.**

Powyższy tekst jest fragmentem

- A. rozporządzenia Rady Regencyjnej o obowiązku służby wojskowej.
- B. manifestu wydanego w imieniu cesarza Niemiec i cesarza Austro-Węgier.
- C. rozkazu Józefa Piłsudskiego do oddziałów Pierwszej Kompanii Kadrowej.
- D. odezwy Ignacego Jana Paderewskiego do Polaków służących w armii francuskiej.

***PRZENIEŚ ROZWIĄZANIA NA KARTĘ ODPOWIEDZI!***